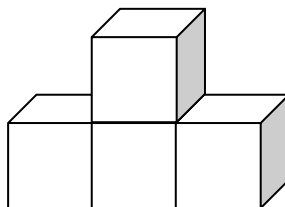


FELADATLAP - GEOMETRIA

1. FELADAT



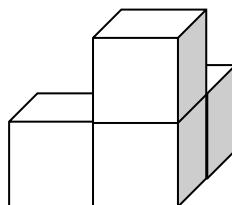
Színezd ki a kockákból álló építményt úgy, hogy a sárga kocka legyen a kék kockán, a piros kocka pedig a **jobb** oldalon!



2. FELADAT



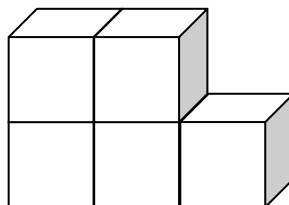
Színezd ki a kockákból álló építményt úgy, hogy a barna kocka a kék kocka **alatt** legyen, a sárga kocka pedig a **bal** oldalon!



3. FELADAT



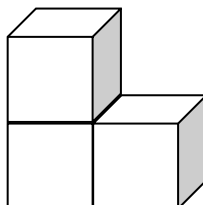
Színezd ki a kockákból álló építményt úgy, hogy a lila kocka a kék kocka és a zöld kocka **között** helyezkedjen el!



4. FELADAT



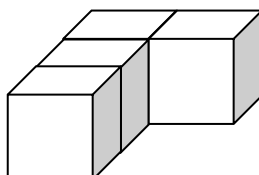
Színezd ki a kockákból álló építményt úgy, hogy a kék kocka a barna kocka **mellett**, a sárga kocka pedig a barna **kockán** helyezkedjen el!



5. FELADAT



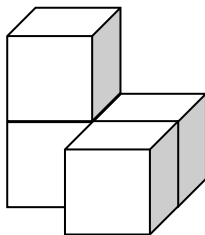
Színezd ki a kockákból álló építményt úgy, hogy a piros kocka a sárga kocka **mögött** helyezkedjen el, a barna kocka pedig legyen **elől**!



6. FELADAT



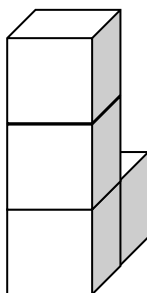
Színezd ki a kockákból álló építményt úgy, hogy a lila kocka a zöld kocka **felett**, a kék kocka pedig a rózsaszín kocka **előtt** helyezkedjen el!



7. FELADAT



Színezd ki a kockákból álló építményt úgy, hogy a sárga kocka **hátsul** helyezkedjen el, a piros kocka pedig **lent**!



8. FELADAT



Rajzolj egy piros négyzetet, melynek oldalai kétszer rövidebbek, mint a kék négyzet oldalai!

Rajzolj egy barna téglalapot, melynek oldalai kétszer hosszabbak, mint a zöld téglalap oldalai!

